


# ÚSEČKA

- krouží zřítu, která má začátek i konec
  - je součástí přímky
- AB | CD ... OZNAČENÍ ÚSEČKY

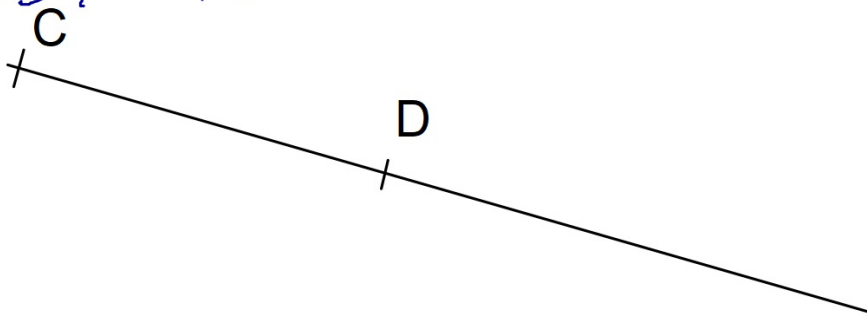
$$|AB| = 5 \text{ cm}$$

" VELIKOST ÚSEČKY AB JE 5 cm. "

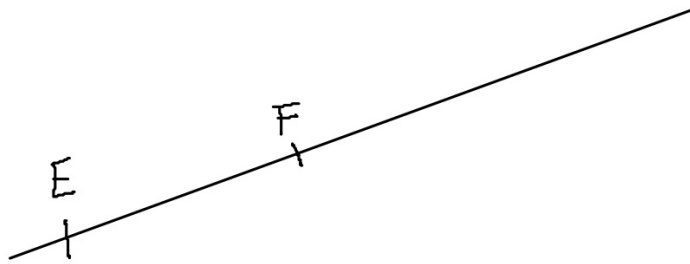


Narýsuj dané úsečky:

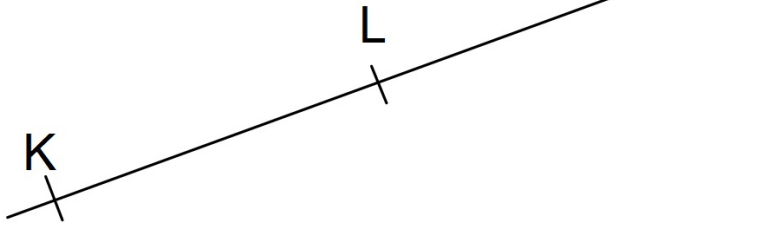
$$|CD| = 70 \text{ mm}$$




$$|EF| = 45 \text{ mm}$$



$$|KL| = 63 \text{ mm}$$





1. Urči délky narysovaných úseček bez použití milimetrového měřítka:

$$ICDI = 2 \text{ cm} = 20 \text{ mm}$$

$$IEFI = 4 \text{ cm} = 40 \text{ mm}$$

$$IGHI = 3 \text{ cm} = 30 \text{ mm}$$

$$IKLI = 6 \text{ cm} = 60 \text{ mm}$$

$$IMNI = 7 \text{ cm} = 70 \text{ mm}$$

$$IOPI = 2 \text{ cm} = 20 \text{ mm}$$

$$IQRI = 5 \text{ cm} = 50 \text{ mm}$$

$$ISTI = 6 \text{ cm} = 60 \text{ mm}$$

(Například A' čteme „A s čarou“.)

$$IA'B'I = 6 \text{ cm} = 60 \text{ mm}$$

$$IC'D'I = 2 \text{ cm} = 20 \text{ mm}$$


$$IE'F'I = 4 \text{ cm} = 40 \text{ mm}$$

$$IG'H'I = 2 \text{ cm} = 20 \text{ mm}$$

$$IJ'J'I = 1 \text{ cm} = 10 \text{ mm}$$

$$IK'L'I = 2 \text{ cm} = 20 \text{ mm}$$

$$3) |EF| = 82 \text{ mm}$$



$$4) |GH| = 7 \text{ cm } 5 \text{ mm}$$

