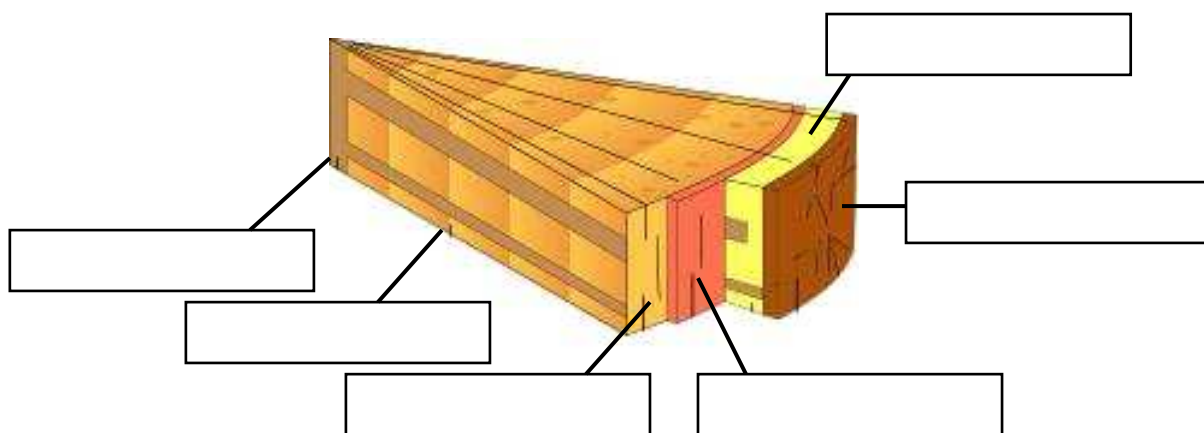


Pracovní list – Stonek

1. Uveď hlavní funkce stonku:

- a)
- b)
- c)
- d)

2. Popiš příčný řez dřevnatého stonku:



3. Nakresli větvení stonku:

a) vidličnaté

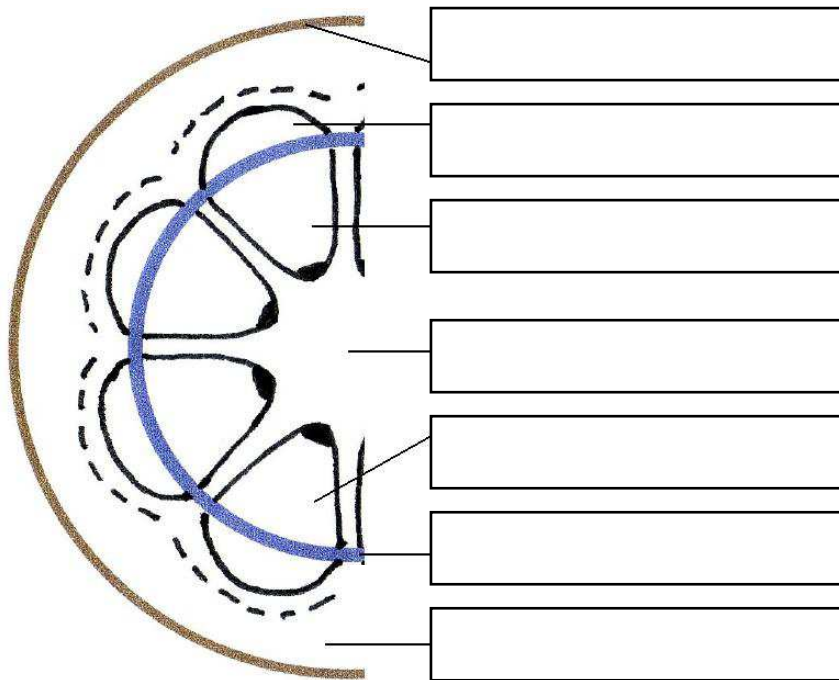
b) hroznovité

c) vrcholičnaté

4. Zapiš typy stonků semenných rostlin:

- 1) a)
b)
2) a)
b)
c)

5. Popiš řez dužnatým stonkem:



6. Vysvětli, co je, popř. k čemu slouží „kambium“:

.....
.....

7.

a) Pojmenuj přeměny stonku (napoví ti obrázky).

b) K čemu slouží?


c) Zapiš rostlinu.



.....
.....
.....



.....
.....
.....



.....
.....
.....



.....
.....
.....



.....
.....
.....



.....
.....
.....