


HLAVNÍ MĚSTO PRAHA



stověžatá matka měst


- 1 Přiřaď k obrázkům významných pražských budov popisky. Každý obrázek reprezentuje jednu z funkcí, kterou hlavní město plní. Její název napiš na volný řádek.



.....

.....

.....



.....

.....

.....

- 2 Kdybychom chtěli obrázky vyjádřit všechny funkce, které hlavní město plní, potřebovali bychom jich víc. Do prázdného rámečku ve cvičení 1 nalep vhodný obrázek pro funkci, na kterou jsme zapomněli a doplň popisek.
- 3 Praha se podílí na celkové průmyslové výrobě Česka více než 13 %. Ke kterým odvětvím patří firmy, jejichž názvy jsou v rámečcích? Uveď příklady jejich výrobků:

Siemens kolejová vozidla

Avia Daewoo

Chirana X-Ray

Zentiva

Dermacol


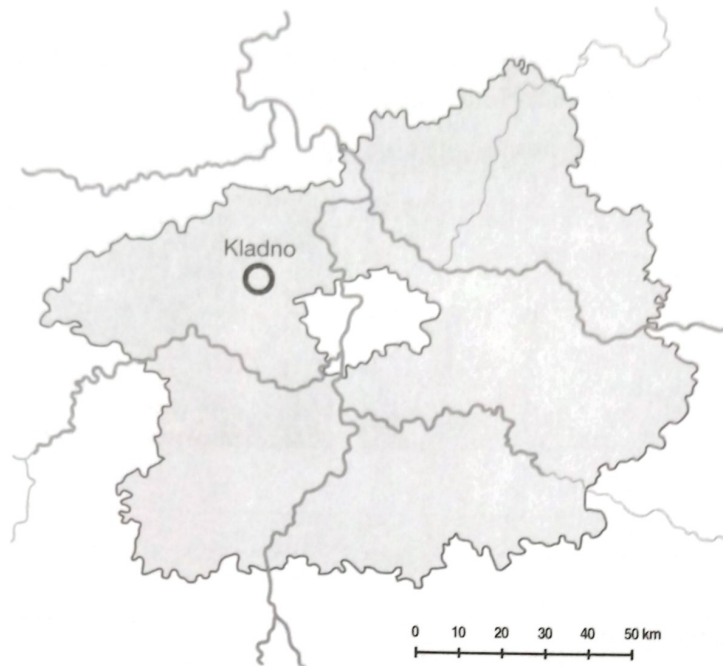
Škoda Praha

- 4 Připrav si kopii mapy centra Prahy a naplánuj si jednodenní výlet. Vyznač v ní plánovanou trasu výletu. Na které nádraží přijedeš z místa bydliště? Zapiš si, kterými prostředky městské hromadné dopravy se budeš přepravovat. (www.ropid.cz)



STŘEDOČESKÝ KRAJ

Silné vzájemné vztahy s Prahou



1 Podnik Škoda Auto, a. s., je největším podnikem v kraji. Spoj šipkami pojmy v rámečcích tak, abys vyjádřil jeho historii:

Superb	V. Klement	Fabia	motocykly	Voiturette	Spartak
Roomster	Felicia	Favorit	jízdní kola	V. Laurin	Škoda 420 Popular

2 Napiš do tabulky, ve kterých dalších středočeských městech jsou podniky dopravního strojírenství. Čísly označ polohu měst na mapce kraje:

Č.	Město	Název podniku	Výrobky

3 Na mapce barevně vyznač oblasti, které jsou rekreačním zázemím hlavního města. Vyber si jednu, zjisti o ní informace a popiš ji.

Název rekreační oblasti:

Charakteristika:

.....
.....
.....
.....