
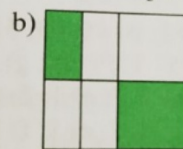



3. Procenta

1. Školu navštěvuje 350 dětí, $\frac{2}{7}$ z nich se učí hrát na nějaký hudební nástroj. Kolik je to dětí? Kolik procent dětí se učí hrát na nějaký hudební nástroj?
2. Francie má 61,1 milionu obyvatel. Z toho je 93,3 % Francouzů. Kolik obyvatel Francie má jinou národnost?
3. Tři procenta Poláků pracují v zemědělství, je to 1,17 milionu ze všech Poláků. Kolik obyvatel má Polsko?
4. V Litvě žije 3,07 milionu Litevců, což je 83,5 % všeho obyvatelstva Litvy. Zbytek jsou Rusové a Poláci. Kolik obyvatel Litvy jsou Rusové nebo Poláci?
5. Jaké procento obyvatel Velké Británie tvoří Angličané, když z 59 milionů obyvatel Velké Británie je 46,5 milionu Angličanů?

8. Jaké procento obsahu čtverce zaujímá vybarvená část?



7. a) Když 5 % je 20, kolik procent je 35?
b) Když 15 % je 50, kolik je 75 %?
c) Když 20 % je 70, kolik je 120 %
d) Kolik procent je 20 z 80?
e) Když 6 je 75 %, kolik procent je 10?